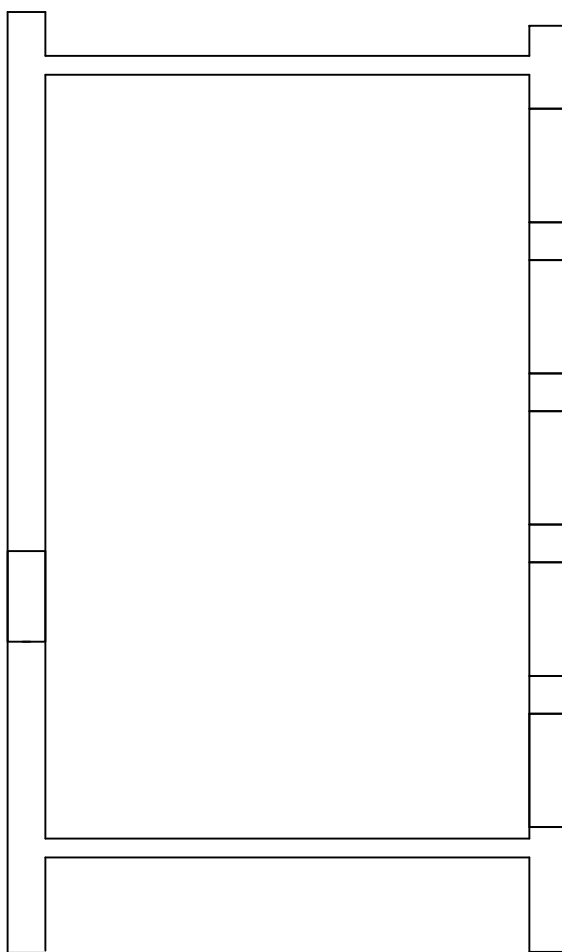
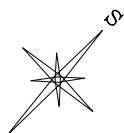


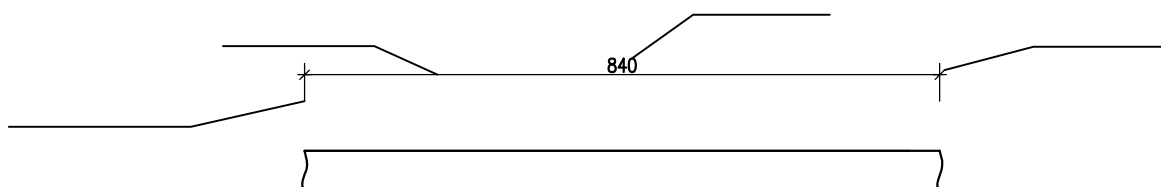
Tlocrt učionice nacrtan je u mjerilu M 1:100. Priborom za tehničko crtanje i potivajući pravila kotiranja u građevinskim tehničkim crtežimaj:

- kotiraj sve mjere zida u kojima se nalaze vrata (jugozapadna strana učionice)
- ucrtaj građevinske simbole za dvokrilne prozore na zidu suprotnom od vrata.
- kotiraj udaljenosti između prozora te na istoj strani debljinu zidova
- iskotiraj unutarnju dimenziju prostorije na sjeverozapadnom dijelu prostorije
- podebljaj B olovkom potrebne dijelove tlocrta



M 1:100

NA DONJEM CRTEŽU NAPIŠI DJELOVE KOTA U GARADITELJSTVU



MJERNA JEDINICA KAD SE KOTIRANJA U GRADITELJSTVU JE U _____.