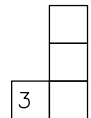
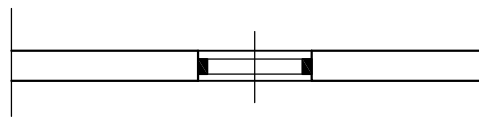
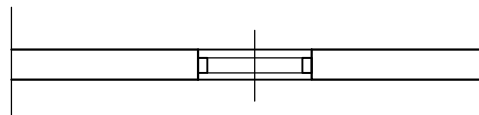


Nacrtaj koristeći pribor za tehničko crtanje normirani simbol za dvokrilni prozor na sredini zidarskog otvora (crtež ispod teksta zadatka).  
 Primjeni potrebne vrste crta.

Rješenje 1.



Rješenje 2.



prozor je točnih dimenzija .....1 bod  
 zidovi su točno označeni širokom punom crtom.....1 bod  
 uredno i precizno crtanje.....1 bod